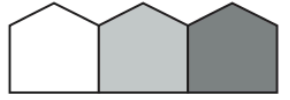

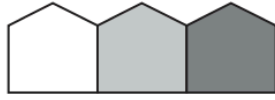

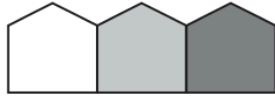

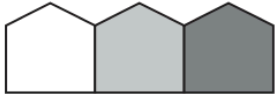



TAREAS DE MATEMÁTICAS ÚLTIMA SEMANA

Lunes, martes y jueves: Completa una serie y un ejercicio de la ficha 4 cada día. Son muy fáciles, solo hay que darle un poco al "coco". ¡Vamos a por ellas!

- Realiza una serie cada día en tu cuaderno. Dibuja con una regla los cuadros coloreados, y después sigue coloreando los dos cuadros que completan cada serie.
- Luego, escribe la fracción que expresa cada parte . Por ejemplo: en el primer cuadro, en total hay 10 partes, y una está coloreada de gris clarito. La fracción coloreada es $\frac{1}{10}$. La parte blanca ocuparía $\frac{9}{10}$.

Pues así se hace con todos los dibujos. En la última serie, hay dos tonalidades de gris, habría que poner tres fracciones por cuadrado.



Nombre _____ Fecha _____

Lee detenidamente, piensa y contesta.

Juan, María, Pedro y Eva tienen cada uno una profesión distinta: abogado, comerciante, taxista y médico. Sus edades son 48 años, 42 años, 45 años y 51 años. Eva es abogada y tiene 3 años más que María. La edad de María es 42 años. Pedro no tiene 48 años y no es taxista ni médico. El que tiene 48 años es taxista. ¿Cuál es la profesión y la edad de cada uno?



	Juan	María	Pedro	Eva
Profesión				
Edad				

Iván, Óscar, Inés y Ana son amigos y a cada uno le gusta un tipo de deporte. A uno le gusta el fútbol, a otro el baloncesto, a otro el atletismo y a otro la natación. Las alturas en centímetros de estos cuatro amigos son: 168 cm, 165 cm, 170 cm y 160 cm. A Ana le gusta la natación y mide 5 cm menos que Inés. A Inés no le gusta ni el baloncesto ni el fútbol y mide 5 centímetros menos que Iván. A Iván no le gusta el fútbol y es el más alto. ¿Cuál es el deporte preferido de cada uno? ¿Cuál es su altura en centímetros?

	Iván	Óscar	Inés	Ana
Deporte preferido				
Altura en cm				

Jorge, Javier, Elena y Olga van de vacaciones en avión, cada uno a un lugar distinto: Sevilla, Barcelona, A Coruña y Valencia. Uno ha pagado por el billete 96 €; otro 84 €, otro 93 € y otro 90 €. El que ha ido a Sevilla pagó por el billete 84 €. Jorge fue a Barcelona y pagó por el billete 9 € más que el que fue a Sevilla. Ni Javier, ni Elena fueron a Sevilla. Javier pagó por el billete 96 € y no fue a Valencia. ¿Adónde fue cada uno? ¿Cuánto pagó por su billete?

	Jorge	Javier	Elena	Olga
Lugar de vacaciones				
Precio del billete				