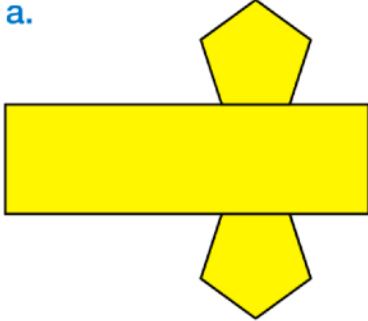


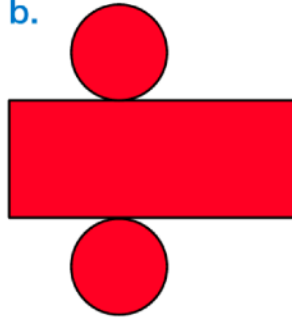
¡¡Hola chicos y chicas!!

Observa las plantillas y contesta.


a.




b.



c.



d.



- ¿Con cuál de las plantillas crees que puedes formar un cilindro? Explica por qué.
- ¿Con cuál de las plantillas crees que puedes formar un cono? Explica por qué.



Escribe el nombre de cada cuerpo geométrico. Después, explica en qué se parecen y en qué se diferencian.

