

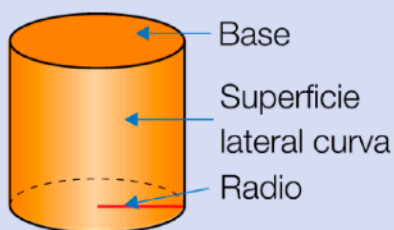
¡¡Hola chicos y chicas!!

MIRA EL VIDEO : <https://youtu.be/L-LhTeggeI8>

Cuerpos redondos. Elementos

Observa los elementos de los cuerpos redondos.

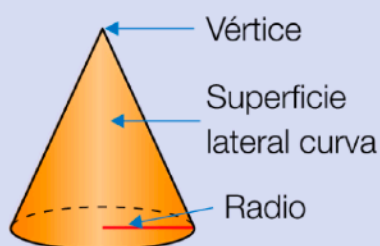
Cilindro



Los cilindros tienen:

- 2 bases circulares iguales.
- 1 superficie lateral curva.

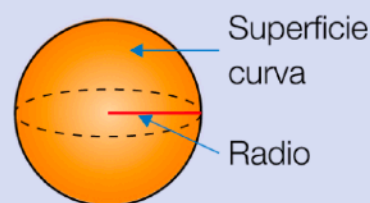
Cono



Los conos tienen:

- 1 base circular.
- 1 superficie lateral curva.




Esfera

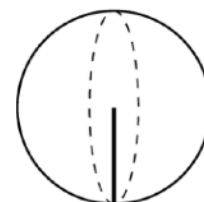

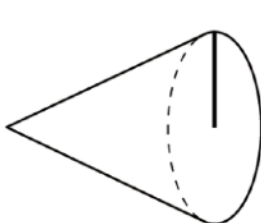
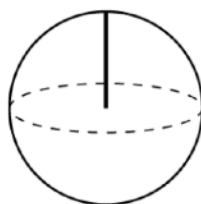
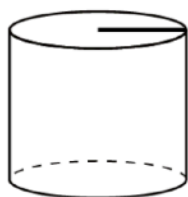


Las esferas tienen:

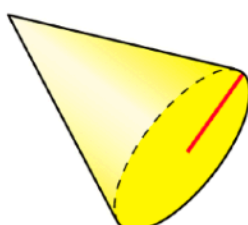
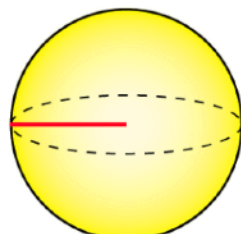
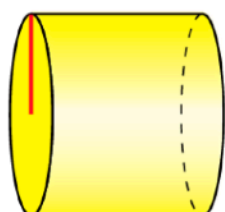
- 1 superficie curva.

Calca en tu cuaderno y colorea.

-  Las bases
-  Los vértices
-  Los radios



Mide el radio de cada cuerpo redondo en milímetros y completa en tu cuaderno.



EJEMPLO

El radio del cilindro mide...