

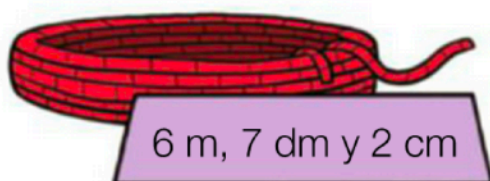

## MATEMÁTICAS

# H

ola chicos y chicas!!

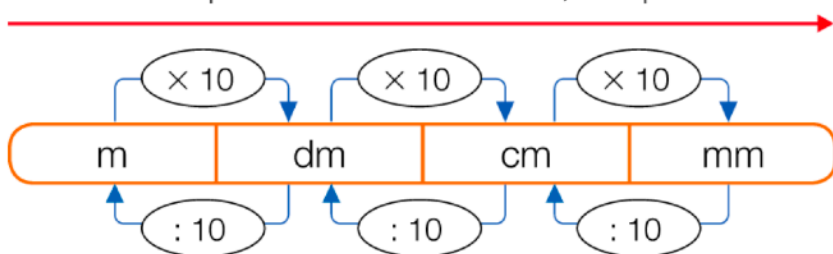
Hacemos algunas actividades más de las unidades de longitud menores que 1 metro, las que aprendimos ayer.

Calcula cuántos centímetros mide cada cuerda.

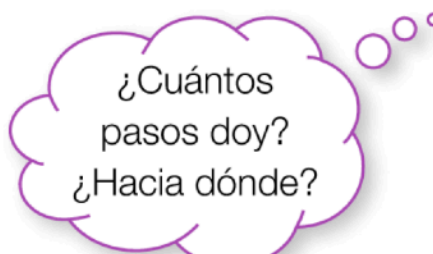


Observa el esquema y expresa cada longitud en la unidad que se indica.

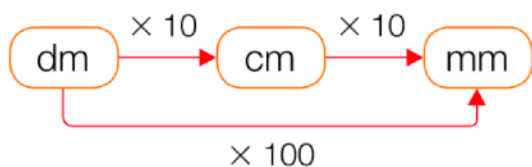
Para pasar a una unidad menor, multiplica



Para pasar a una unidad mayor, divide

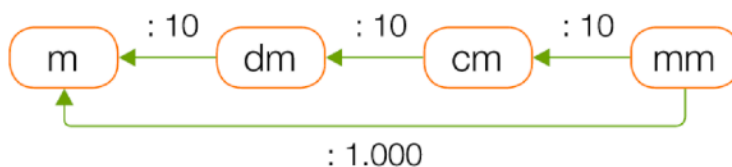


**EJEMPLO** 5 dm en mm



$$5 \times 100 = 500 \rightarrow 5 \text{ dm} = 500 \text{ mm}$$

**EJEMPLO** 4.000 mm en m



$$4.000 : 1.000 = 4 \rightarrow 4.000 \text{ mm} = 4 \text{ m}$$

■ 14 m en dm

■ 53 cm en mm

■ 20 m en cm

■ 360 cm en dm

■ 700 cm en m

■ 9.000 mm en dm