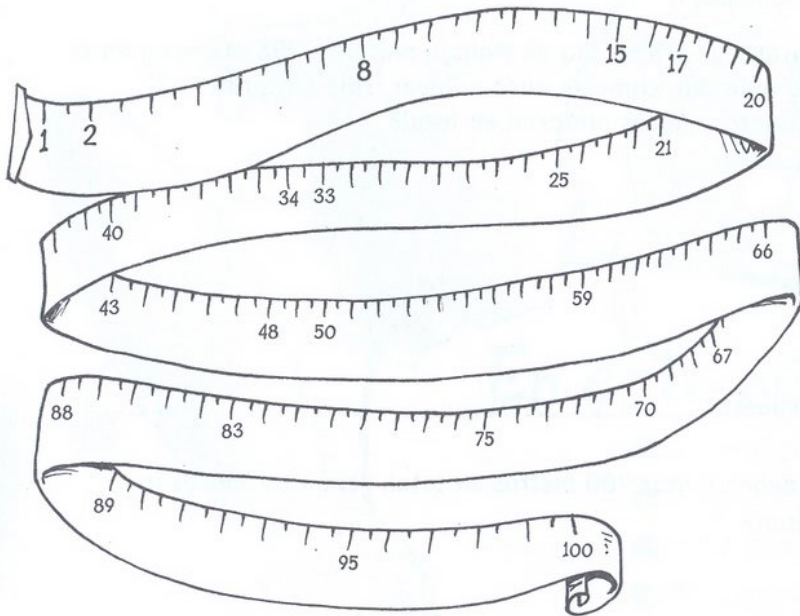


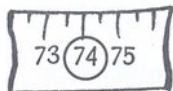
2.^o
de Primaria

El centímetro

- **Completa** el centímetro con los números que se borraron.



- **Escribe** los nombres de los números señalados.
- **Descompone** en unidades y decenas.



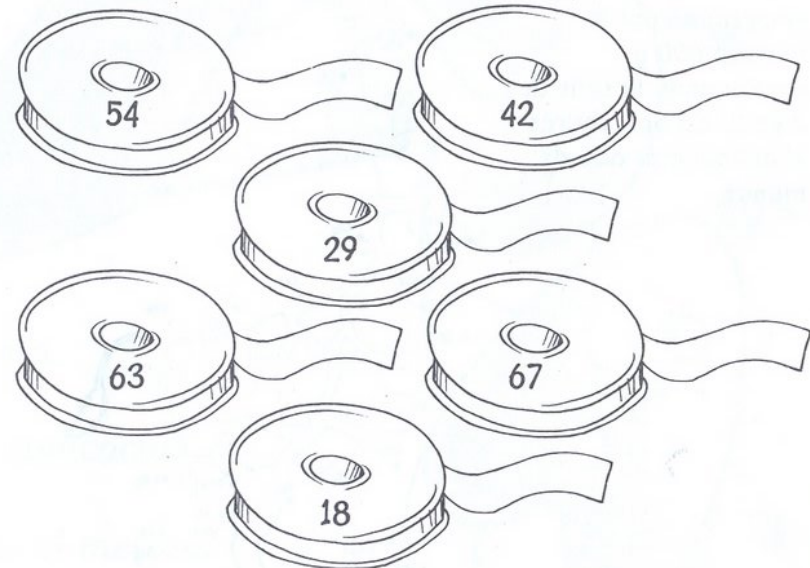




Cintas y centímetros

Laura necesita 85 centímetros de cinta.
Para conseguirlo debe unir dos rollos.

- **Calcula y pinta** cuáles son.



Un espacio para tus cálculos

