

## TAREAS DE MATEMÁTICAS. SEMANA DEL 25 AL 27 DE MAYO.



Querid@s chic@s: como esta semana tenemos descanso por la feria que no podremos celebrar como siempre, os envío tareas para tres días. Un abrazo y mucho ánimo.

### LUNES 25

Lee atentamente el cuadro de la página 216 del libro. Nos vamos a centrar en la lectura del pictograma del cuadrado morado y lo vais a copiar en el cuaderno (sólo el pictograma). Utiliza la regla y guíate por los cuadritos de tu libreta. Coloréalo bien.

- Actividad 1 de la página 216.

### MARTES 26

Actividad 2 de la página 216. Dibuja el gráfico de las empanadas. Utiliza la regla y guíate por los cuadritos de tu libreta. Coloréalo bien.

### MIÉRCOLES 27


- Uso de la calculadora. Lee el documento que te adjunto, y realiza las siguientes actividades:

# Uso de la calculadora

## 1. Cómo calcular el tanto por ciento de un número.

Observa cómo se calcula el 5 % de 120 con la calculadora.

5% de 120 =  $\frac{5 \times 120}{100} = 6$




Para calcular el 5 % de 120  
teclea

ON 1 2 0 × 5 %

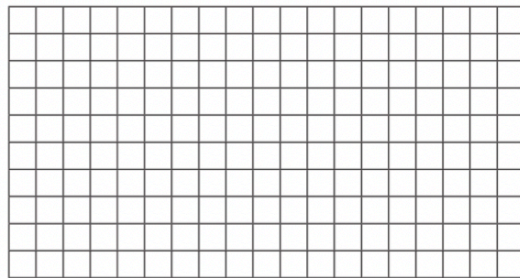


Calcula los siguientes porcentajes. Después, comprueba el resultado con tu calculadora.


2 % de 300




10 % de 50



3 % de 400




20 % de 60



Calcula. Después, comprueba el resultado con tu calculadora.

28 : 3,2



75 : 6,25

