

Nombre: .....

Curso: .....

**1** Los lados de un polígono miden 4 cm, 6 cm, 8 cm, 2 cm y 3 cm.

- ¿Cuál es su perímetro? .....
- ¿Puede ser un paralelogramo? ..... ¿Por qué? .....

**2** Observa el rompecabezas y contesta:


a) ¿Qué figura falta (A, B o C)? .....

b) Indica los nombres de A, B y C según sus lados y sus ángulos:

A: .....

B: .....

Figura C: .....




**3** Dibuja los cuadriláteros que se indican:

**ROMBO**


**TRAPECIO**

**PARALELOGRAMO**

**4** Dibuja una circunferencia de 3 cm de diámetro con centro en el punto M. Luego, indica los elementos de la circunferencia en ella.



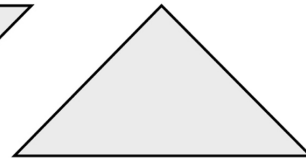
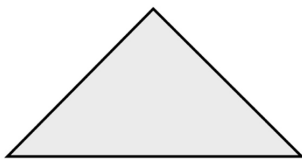
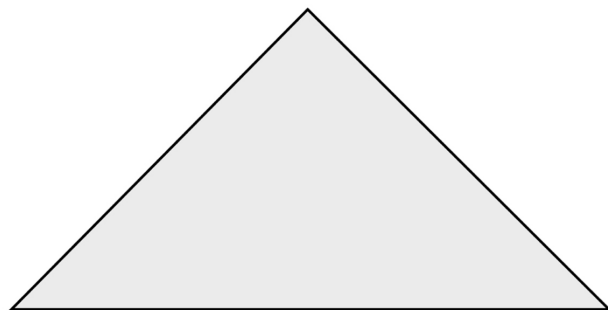

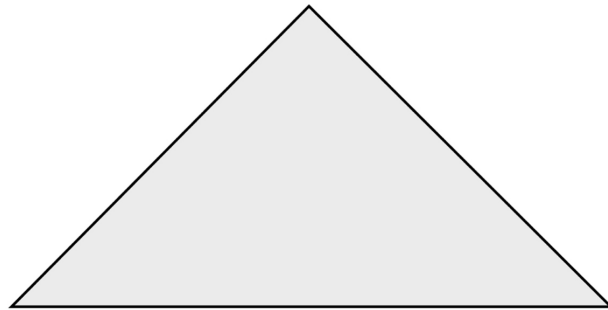
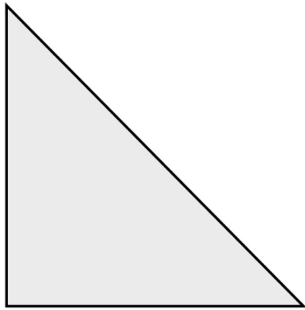
**5** Dibuja una recta tangente a esta circunferencia:



Nombre: .....

Curso: .....

1 Recorta los siguientes polígonos y construye diferentes tipos de cuadriláteros juntando dos o más figuras:



2 Recorta estas figuras y construye cuadrados y rectángulos:

