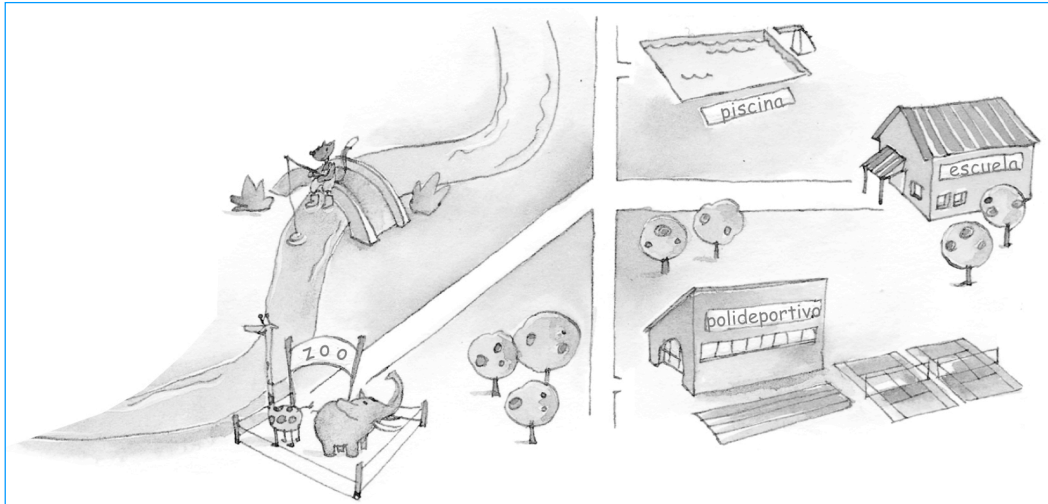


Nombre: .....

Curso: .....

**1** Indica qué tipo de ángulo forman los caminos para ir:

- De la escuela a la piscina: .....
- Del zoo al polideportivo: .....
- Del polideportivo a la escuela: .....
- De la piscina al zoo: .....



**2** Dibuja rectas que sean:

**SECANTES**

**PARALELAS**

**PERPENDICULARES**

**3** Escribe las coordenadas de los puntos que se indican:

■ (....., .....

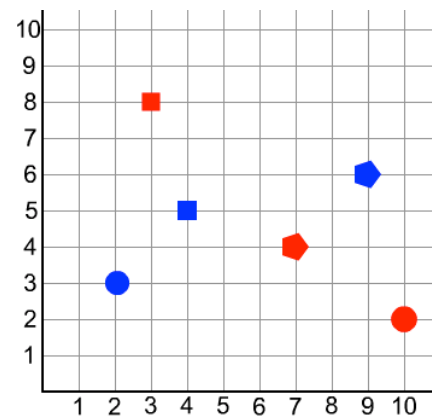
■ (....., .....

● (....., .....

● (....., .....

◆ (....., .....

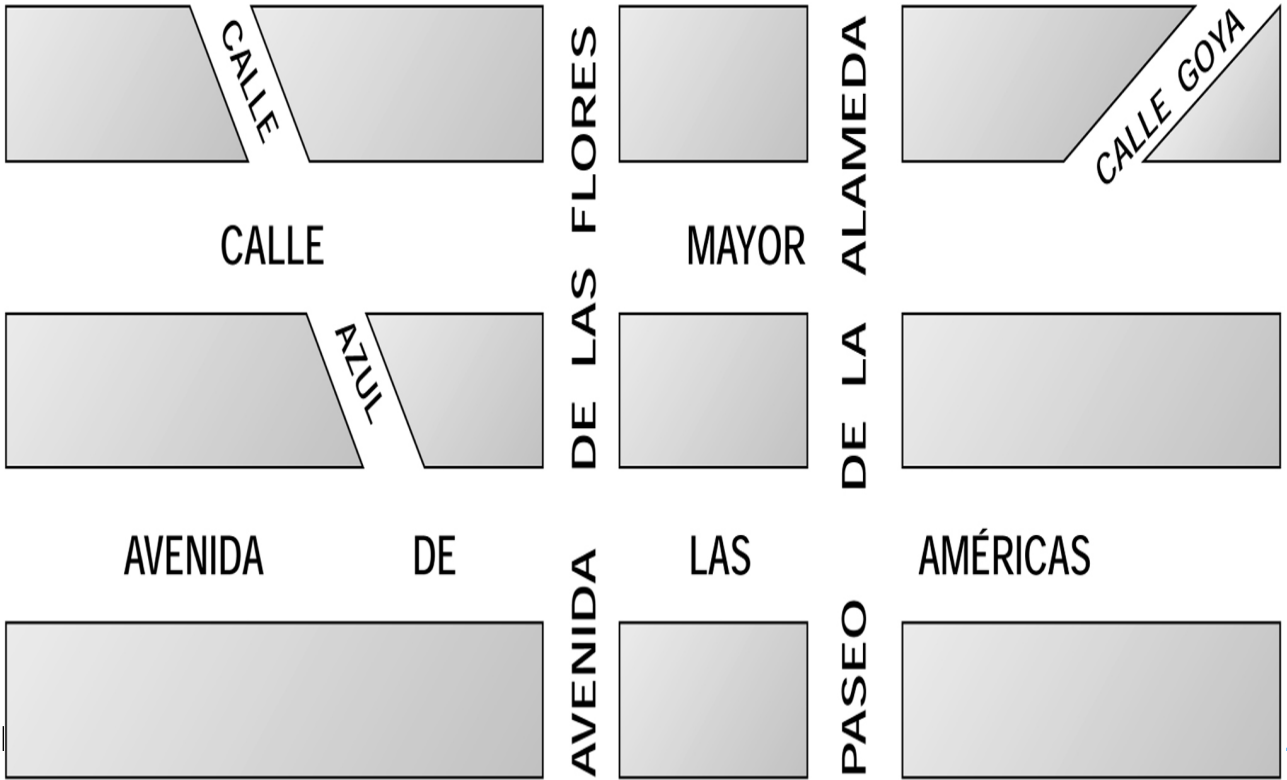
◆ (....., .....




Nombre: .....

Curso: .....

- 1** Señala en rojo dos calles paralelas, en azul dos calles secantes y en verde, dos calles perpendiculares:



- 2** Identifica en estas tres imágenes todos los tipos de relaciones entre rectas y entre ángulos que has aprendido: dibújalos y escribe su nombre:



.....

.....

.....

.....

.....

.....

.....

.....